

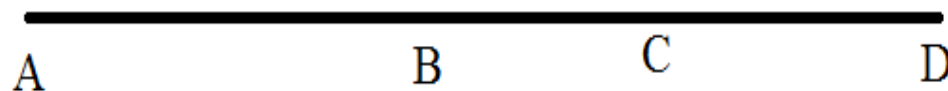
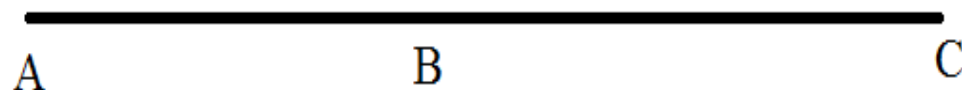
TOÁN NÂNG CAO – TOÁN TƯ DUY LỚP 3

HÌNH HỌC

Đếm số đoạn thẳng, đếm số tam giác

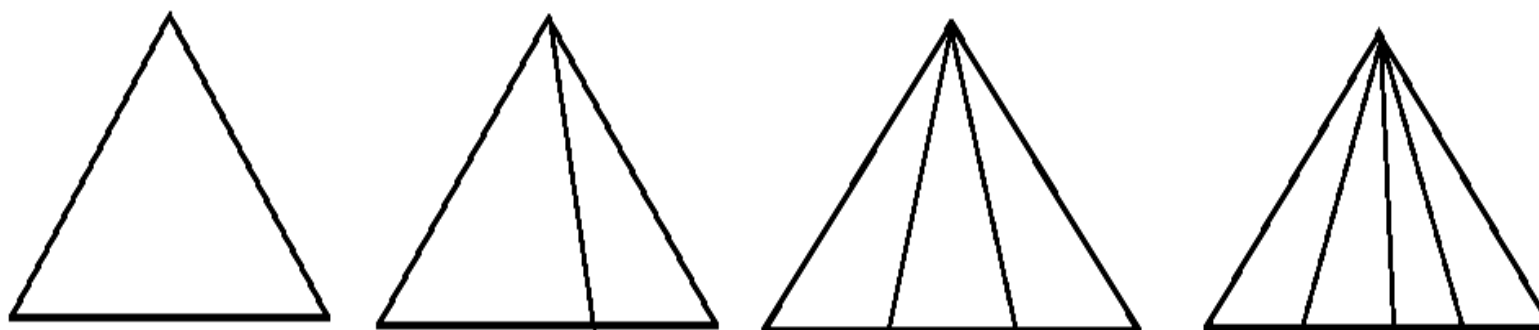
? Bài 1

Hình dưới đây có bao nhiêu đoạn thẳng?



? Bài 2

Trong mỗi hình dưới đây có bao nhiêu hình tam giác?





www.mathx.vn
share the passion