



PHIẾU TƯ DUY MATHX – PHIẾU SỐ 47

Bài 1. Diệu Thảo đánh dấu đường đi từ nhà đến hồ bằng mũi tên trên bản đồ. Cô ấy đã vẽ sai bao nhiêu mũi tên?

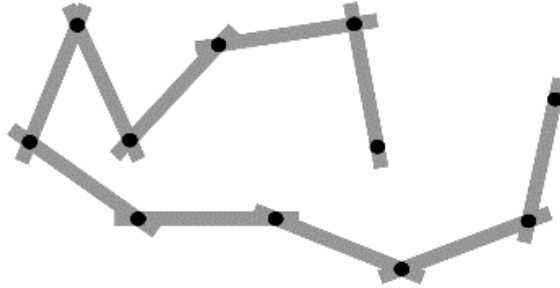


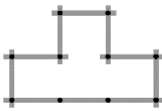
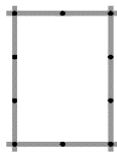
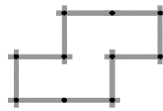

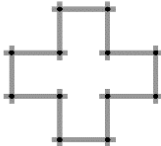
Bài 2. Tuấn cùng các bạn học sinh xếp hàng mua vé xem phim. Nếu tính từ đầu hàng thì Tuấn ở vị trí thứ 10 còn tính từ cuối hàng thì Tuấn ở vị trí thứ 10. Hỏi có bao nhiêu bạn đang xếp hàng?

Bài 3. Tính: $1 + 2 + 3 + 997 + 998 + 999$.

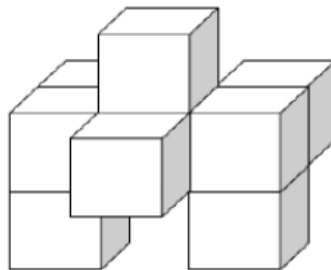


Bài 4. Sử dụng các que kết nối được hiển thị, Pia tạo thành các hình dạng khác nhau. Cô ấy không thể tạo ra hình dạng nào?



- (A)  (B)  (C) 
- (D)  (E) 

Bài 5. Hình dưới đây có bao nhiêu khối lập phương?





GIỚI THIỆU LỚP HỌC ONLINE CÙNG GIÁO VIÊN GIỎI

Trường Toán Online MATHX với các lớp Toán online trực tiếp với giáo viên giỏi. Lớp học dành cho học sinh từ **CƠ BẢN** đến **NÂNG CAO** phù hợp với trình độ của từng bạn (có kiểm tra xếp lớp). Sĩ số 8 - 12 học sinh/lớp giúp giáo viên và học sinh dễ dàng tương tác, giáo viên dễ dàng sát sao tình hình học tập của học sinh.

Phụ huynh học sinh đăng ký **LÀM BÀI KIỂM TRA XẾP LỚP MIỄN PHÍ** tại form: truongtoanmathx.vn/dangkykiemtra

Xem thông tin chi tiết: truongtoanmathx.vn

HOTLINE: 0867.162.019



TRƯỜNG TOÁN ONLINE MATHX