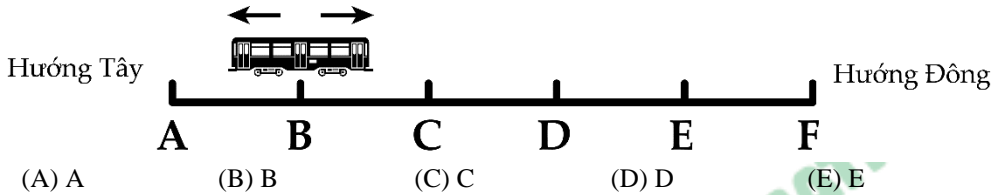




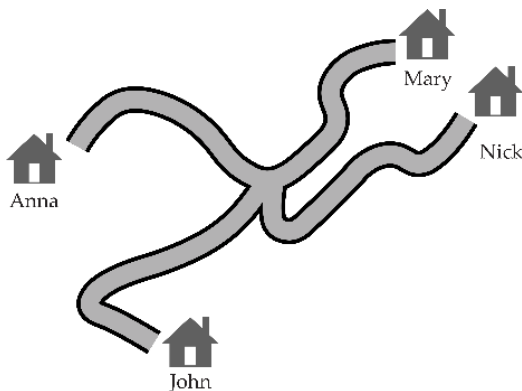
PHIẾU TƯ DUY MATHX – PHIẾU SỐ 43

Bài 1. Tuyến tàu điện ngầm có 6 ga A, B, C, D, E và F. Tàu sẽ dừng ở mọi ga. Khi đến một trong hai ga cuối, tàu sẽ đổi hướng. Người lái tàu bắt đầu lái tàu ở ga B và điểm dừng đầu tiên của tàu là ga C. Ga nào sẽ là ga mà tàu sẽ dừng lần thứ 96?



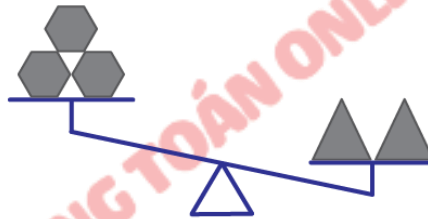
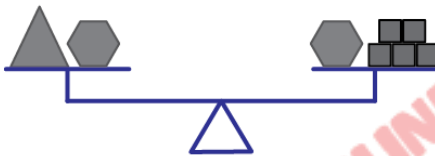
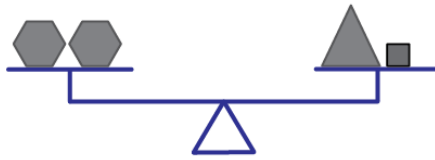
Bài 2. Nếu thêm chữ số 4 vào bên phải một số có hai chữ số, ta được số mới lớn hơn số đó 319 đơn vị. Tìm số ban đầu.

Bài 3. Trong bản đồ bên dưới, quãng cách từ nhà Anna đến nhà Mary là 16 km. Khoảng cách từ nhà Mary đến nhà Nick là 20 km. Khoảng cách từ nhà Nick đến nhà John là 19 km. Hỏi nhà Anna cách nhà John bao xa?



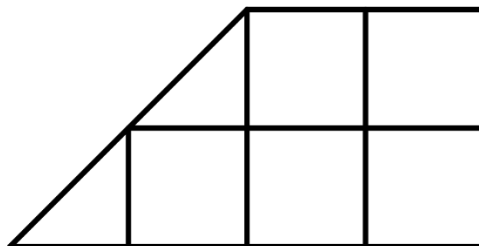


Bài 4. Mark đặt 3 vật thể khác nhau, hình lục giác, hình vuông và hình tam giác trên các bộ cân như hình minh họa.



Anh ta cần đặt gì vào phía bên trái của bộ cân thứ ba để những chiếc cân này thăng bằng?

Bài 5. Em hãy chia hình sau thành 4 phần bằng nhau.





GIỚI THIỆU LỚP HỌC ONLINE CÙNG GIÁO VIÊN GIỎI

Trường Toán Online MATHX với các lớp Toán online trực tiếp với giáo viên giỏi. Lớp học dành cho học sinh từ CƠ BẢN đến NÂNG CAO phù hợp với trình độ của từng bạn (có kiểm tra xếp lớp). Sĩ số 8 - 12 học sinh/lớp giúp giáo viên và học sinh dễ dàng tương tác, giáo viên dễ dàng sát sao tình hình học tập của học sinh.

Phụ huynh học sinh đăng ký **LÀM BÀI KIỂM TRA XẾP LỚP MIỄN PHÍ** tại form: truongtoanmathx.vn/dangkykiemtra

Xem thông tin chi tiết: truongtoanmathx.vn

HOTLINE: 0867.162.019



TRƯỜNG TOÁN ONLINE MATHX