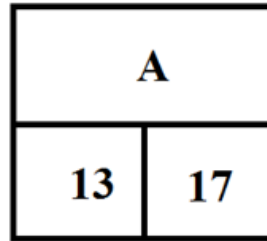
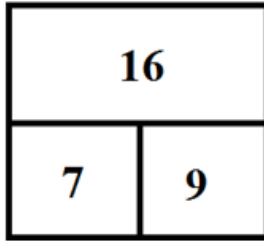
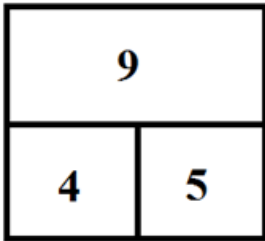




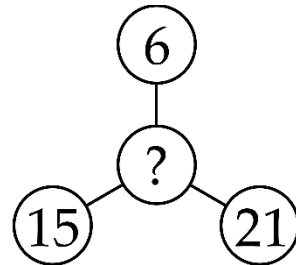
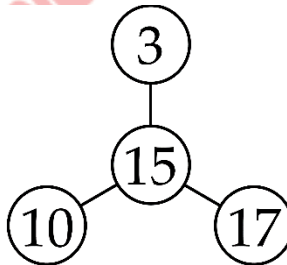
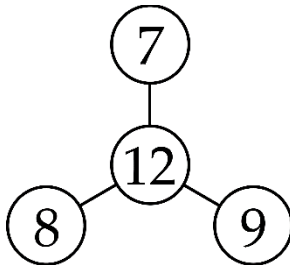
PHIẾU TƯ DUY MATHX – PHIẾU SỐ 48

Bài 1. Số thích hợp để thay cho chữ cái A là:



Bài 2. Hiện nay, tổng số tuổi của hai mẹ con là 38. Vậy sau 5 năm nữa tổng số tuổi của hai mẹ con là bao nhiêu?

Bài 3. Số thích hợp điền vào dấu “?” là:



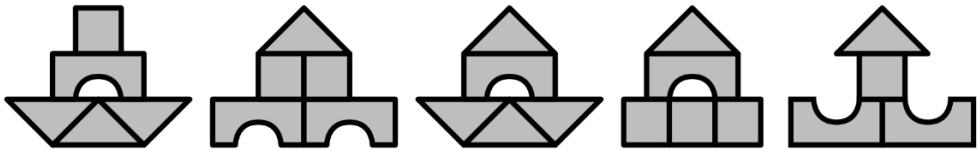
Bài 4. Trên 1 sợi dây người ta buộc thành 6 nút cách đều nhau. Biết nút đầu cách nút cuối cùng 10 m. Hỏi hai nút liền kề cách nhau bao nhiêu mét?



Bài 5. Minh có các mảnh ghép có hình dạng bên dưới.



Bạn ấy sử dụng cả 3 mảnh ghép để tạo thành các mô hình, hỏi mô hình nào bên dưới không phải do Minh tạo ra?



GIỚI THIỆU LỚP HỌC ONLINE CÙNG GIÁO VIÊN GIỎI

Trường Toán Online MATHX với các lớp Toán online trực tiếp với giáo viên giỏi. Lớp học dành cho học sinh từ **CƠ BẢN** đến **NÂNG CAO** phù hợp với trình độ của từng bạn (có kiểm tra xếp lớp). Sĩ số 8 - 12 học sinh/lớp giúp giáo viên và học sinh dễ dàng tương tác, giáo viên dễ dàng sát sao tình hình học tập của học sinh.

Phụ huynh học sinh đăng ký **LÀM BÀI KIỂM TRA XẾP LỚP MIỄN PHÍ** tại form: truongtoanmathx.vn/dangkykiemtra

Xem thông tin chi tiết: truongtoanmathx.vn

HOTLINE: 0867.162.019