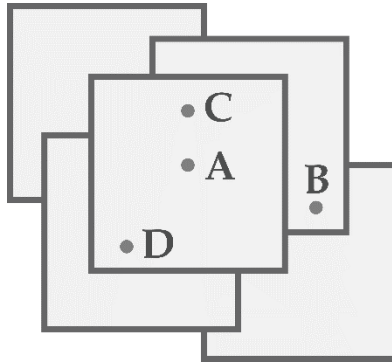




PHIẾU TƯ DUY MATHX – PHIẾU SỐ 47

Bài 1. Năm hình vuông giống hệt nhau được đặt lên bàn. Một bạn nhỏ định đục 4 lỗ tại 4 vị trí được đánh dấu trong hình bên dưới. Hỏi đục điểm nào sẽ đi qua nhiều lớp nhất?



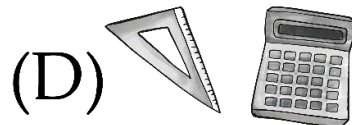


Bài 2. Từ tầng dưới lên tầng trên của 1 tòa nhà cao tầng cần đi 10 bậc cầu thang. Vậy nếu đi từ tầng 1 tới tầng 6 của tòa nhà đó thì cần đi qua bao nhiêu bậc?

Bài 3. Mai, An, Vy mỗi bạn bạn thích một loại quả khác nhau: Cam, Táo, Đào. Biết An không thích ăn Cam. Mai không thích ăn Táo và Cam. Hỏi mỗi bạn thích loại trái cây nào?



Bài 4. Tìm hai số tiếp theo: 1; 4; 6; 9; 11; 14; ...;

Bài 5. Cho hình dưới đây. Chọn hình thích hợp để điền vào dấu “?”.



GIỚI THIỆU LỚP HỌC ONLINE CÙNG GIÁO VIÊN GIỎI

Trường Toán Online MATHX với các lớp Toán online trực tiếp với giáo viên giỏi. Lớp học dành cho học sinh từ **CƠ BẢN** đến **NÂNG CAO** phù hợp với trình độ của từng bạn (có kiểm tra xếp lớp). Sĩ số 8 - 12 học sinh/lớp giúp giáo viên và học sinh dễ dàng tương tác, giáo viên dễ dàng sát sao tình hình học tập của học sinh.

Phụ huynh học sinh đăng ký **LÀM BÀI KIỂM TRA XẾP LỚP MIỄN PHÍ** tại form: truongtoanmathx.vn/dangkykiemtra

Xem thông tin chi tiết: truongtoanmathx.vn

HOTLINE: 0867.162.019