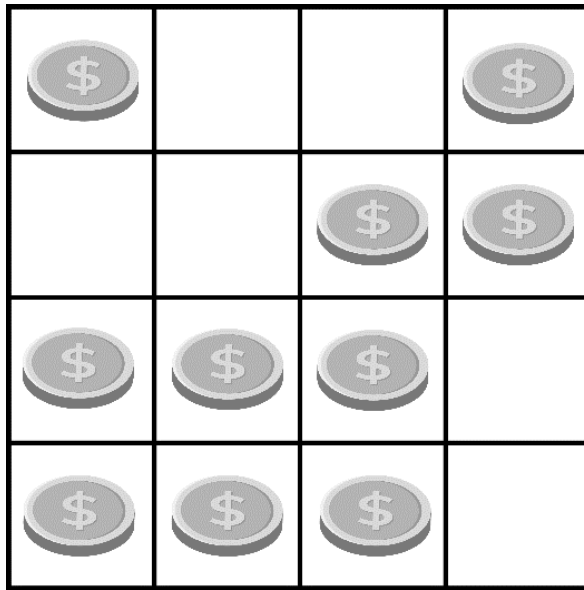


ĐÁP ÁN PHIẾU TƯ DUY MATHX – PHIẾU SỐ 46

Bài 1. Có một vài đồng xu nằm trên bảng. Chúng ta muốn có 2 đồng xu nằm trên mỗi hàng, và 2 đồng xu nằm trên mỗi cột. Hỏi cần phải bỏ đi bao nhiêu đồng xu?



(A) 1

(B) 2

(C) 3

(D) 4

Hướng dẫn giải:

Đáp án B.

Bài 2. Có tất cả bao nhiêu số có 2 chữ số mà tổng 2 chữ số của số đó bằng 11?

Hướng dẫn giải:

$$11 = 2 + 9 = 3 + 8 = 4 + 7 = 5 + 6.$$

Các số đó là: 92; 29; 83; 38; 74; 47; 65; 56.

Vậy có 8 số có 2 chữ số mà tổng 2 chữ số của số đó bằng 11.



Bài 3. Sóc và Thỏ cưa đôi một cây gỗ để chia đều cho nhau. Sau đó, Thỏ lại cưa đôi khúc gỗ của mình để cho Nhím thì Thỏ còn lại khúc gỗ dài 2 mét. Hỏi cây gỗ ban đầu dài bao nhiêu mét?

Hướng dẫn giải:

Cây gỗ của thỏ trước khi cưa cho Nhím dài là:

$$2 + 2 = 4 \text{ (m)}$$

Cây gỗ lúc đầu dài là: $4 + 4 = 8 \text{ (m)}$

Đáp án: 8 mét.

Bài 4. Trước đây 3 năm, Huy 7 tuổi. Hỏi sau 3 năm nữa Huy bao nhiêu tuổi?

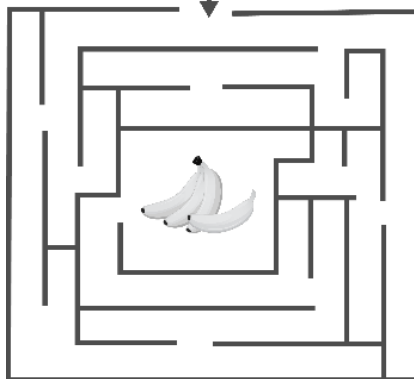
Hướng dẫn giải:

Tuổi của Huy hiện nay là: $7 + 3 = 10 \text{ (tuổi)}$

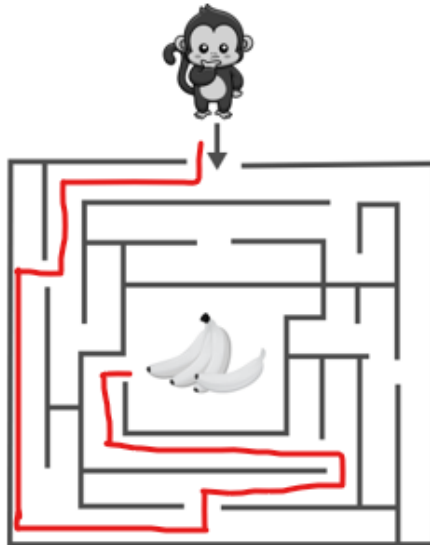
Tuổi của Huy sau 3 năm nữa là: $10 + 3 = 13 \text{ (tuổi)}$

Đáp án: 13 tuổi.

Bài 5. Chú khỉ tên Jack đang rất đói bụng và phải vượt qua mê cung để tìm đồ ăn. Các con hãy giúp chú khỉ Jack tìm đường tới nải chuối thật nhanh nhé!



Hướng dẫn giải:



GIỚI THIỆU LỚP HỌC ONLINE CÙNG GIÁO VIÊN GIỎI

Trường Toán Online MATHX với các lớp Toán online trực tiếp với giáo viên giỏi. Lớp học dành cho học sinh từ **CƠ BẢN** đến **NÂNG CAO** phù hợp với trình độ của từng bạn (có kiểm tra xếp lớp). Sĩ số 8 - 12 học sinh/lớp giúp giáo viên và học sinh dễ dàng tương tác, giáo viên dễ dàng sát sao tình hình học tập của học sinh.

Phụ huynh học sinh đăng ký **LÀM BÀI KIỂM TRA XẾP LỚP MIỄN PHÍ** tại form: truongtoanmathx.vn/dangkykiemtra

Xem thông tin chi tiết: truongtoanmathx.vn

HOTLINE: 0867.162.019