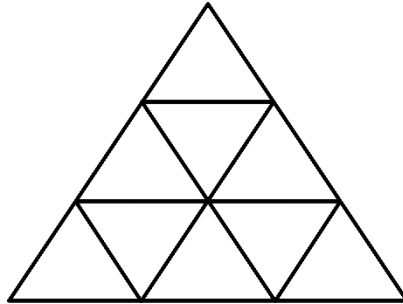





ĐÁP ÁN PHIẾU TƯ DUY MATHX – PHIẾU SỐ 38

Bài 1. Có bao nhiêu hình tam giác trong hình sau?



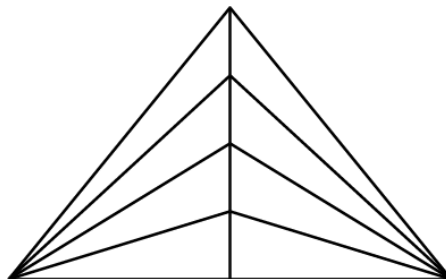
Hướng dẫn giải:
13 hình tam giác.

Bài 2. Có bao nhiêu hình vuông trong hình bên?



Hướng dẫn giải:
Có tất cả 27 hình vuông.

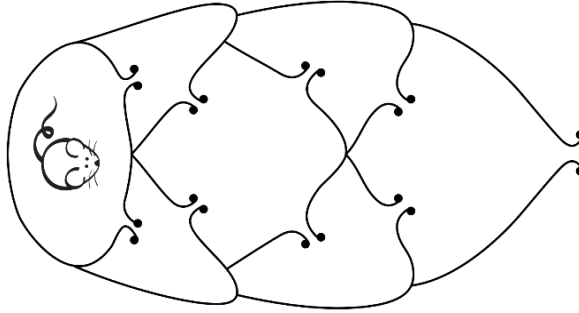
Bài 3. Có bao nhiêu hình tam giác trong hình dưới đây?



Hướng dẫn giải:
Cách 1: Có $(1+2+3+4) \times 2 + 4 = 24$ hình tam giác.
Cách 2: Tổng $8 + 7 + 4 + 3 + 1 + 1 = 24$ hình tam giác.




Bài 4. Chú chuột muốn thoát ra khỏi mê cung dưới đây. Hỏi chú chuột có tất cả bao nhiêu cách đi sao cho mỗi cửa không được đi qua quá 1 lần?



Hướng dẫn giải:
Có tất cả 4 cách.

Bài 5. Có bao nhiêu sợi dây trong hình dưới đây?



Hướng dẫn giải:
Có 6 đầu mút nên có 3 sợi dây trong hình.

GIỚI THIỆU LỚP HỌC ONLINE CÙNG GIÁO VIÊN GIỎI

Trường Toán Online MATHX với các lớp Toán online trực tiếp với giáo viên giỏi. Lớp học dành cho học sinh từ CƠ BẢN đến NÂNG CAO phù hợp với trình độ của từng bạn (có kiểm tra xếp lớp). Sĩ số 8 - 12 học sinh/lớp giúp giáo viên và học sinh dễ dàng tương tác, giáo viên dễ dàng sát sao tình hình học tập của học sinh.

Phụ huynh học sinh đăng ký **LÀM BÀI KIỂM TRA XẾP LỚP MIỄN PHÍ** tại form: truongtoanmathx.vn/dangkykiemtra

Xem thông tin chi tiết: truongtoanmathx.vn

HOTLINE: 0867.162.019