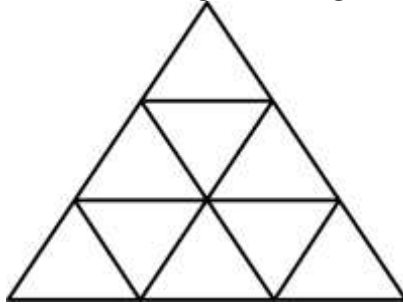




## ĐÁP ÁN PHIẾU TƯ DUY MATHX – PHIẾU SỐ 38

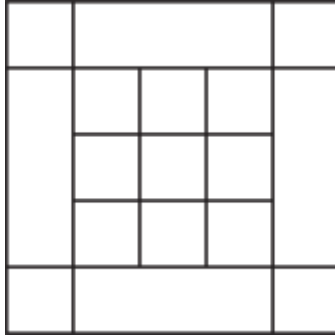
**Bài 1.** Có bao nhiêu hình tam giác trong hình sau?



*Hướng dẫn giải:*

13 hình tam giác.

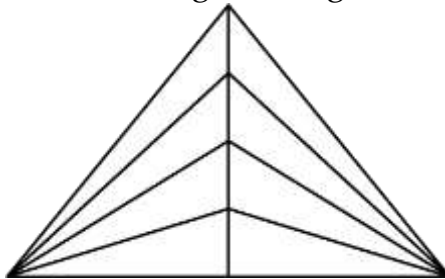
**Bài 2.** Có bao nhiêu hình vuông trong hình bên?



*Hướng dẫn giải:*

Có tất cả 27 hình vuông.

**Bài 3.** Có bao nhiêu hình tam giác trong hình dưới đây?

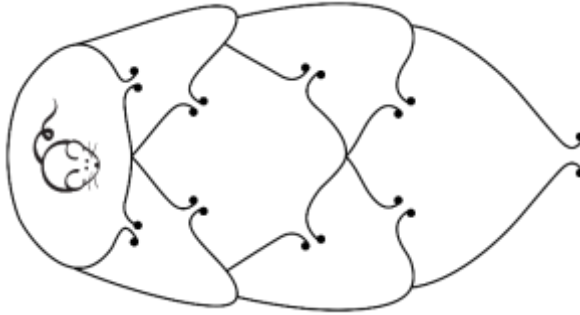


*Hướng dẫn giải:*

Cách 1: Có  $(1 + 2 + 3 + 4) \times 2 + 4 = 24$  hình tam giác.

Cách 2: Tổng  $8 + 7 + 4 + 3 + 1 + 1 = 24$  hình tam giác.

**Bài 4.** Chú chuột muốn thoát ra khỏi mê cung dưới đây. Hỏi chú chuột có tất cả bao nhiêu cách đi sao cho mỗi cửa không được đi qua quá 1 lần?



*Hướng dẫn giải:*  
Có tất cả 4 cách.

**Bài 5.** Có bao nhiêu sợi dây trong hình dưới đây?



*Hướng dẫn giải:*  
Có 6 đầu mút nên có 3 sợi dây trong hình.