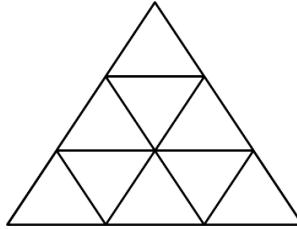


ĐÁP ÁN TOÁN TƯ DUY MATHX – PHIẾU SỐ 38

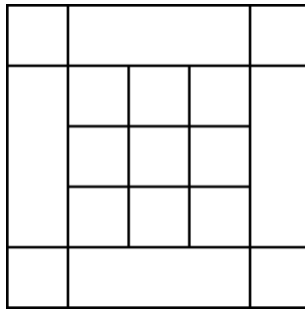
Bài 1. Có bao nhiêu hình tam giác trong hình sau?



Hướng dẫn giải

13 hình tam giác.

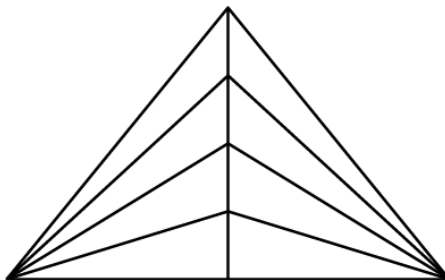
Bài 2. Có bao nhiêu hình vuông trong hình bên?



Hướng dẫn giải

Có tất cả 27 hình vuông.

Bài 3. Có bao nhiêu hình tam giác trong hình dưới đây?

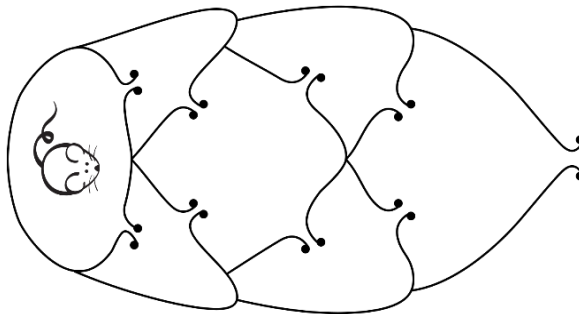


Hướng dẫn giải

Cách 1: Có $(1 + 2 + 3 + 4) \times 2 + 4 = 24$ hình tam giác.

Cách 2: Tổng $8 + 7 + 4 + 3 + 1 + 1 = 24$ hình tam giác.


Bài 4. Chú chuột muốn thoát ra khỏi mê cung dưới đây. Hỏi chú chuột có tất cả bao nhiêu cách đi sao cho mỗi cửa không được đi qua quá 1 lần?



Hướng dẫn giải

Có tất cả 4 cách.

Bài 5. Có bao nhiêu sợi dây trong hình dưới đây?



Hướng dẫn giải

Có 6 đầu mút nên có 3 sợi dây trong hình.