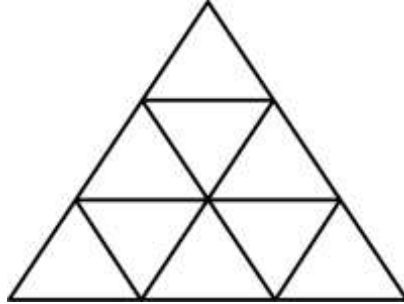




## PHIẾU TƯ DUY MATHX – PHIẾU SỐ 38

**Bài 1.** Có bao nhiêu hình tam giác trong hình dưới đây?




---

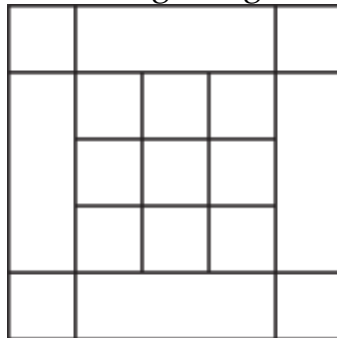


---



---

**Bài 2.** Có bao nhiêu hình vuông trong hình bên dưới?




---

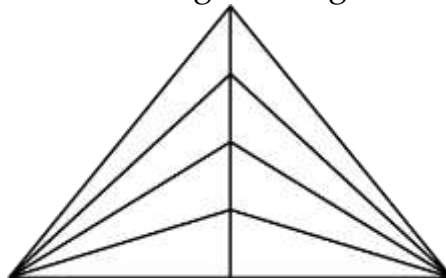


---



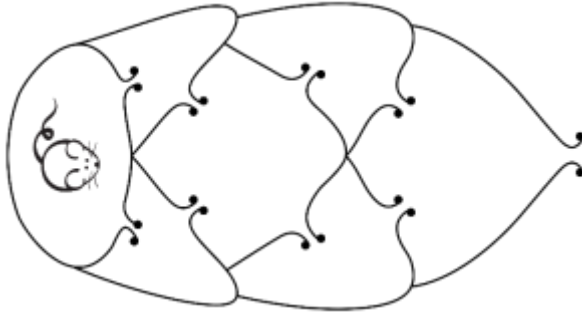
---

**Bài 3.** Có bao nhiêu hình tam giác trong hình dưới đây?





**Bài 4.** Chú chuột muốn thoát ra khỏi mê cung dưới đây. Hỏi chú chuột có tất cả bao nhiêu cách đi sao cho mỗi cửa không được đi qua quá 1 lần?



---

---

---

---

---

---

---

---

**Bài 5.** Có bao nhiêu sợi dây trong hình dưới đây?



---

---

---

---

---

---

---

---