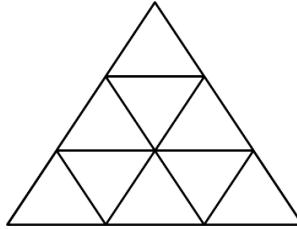


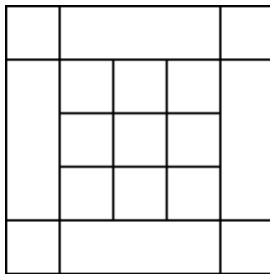
TOÁN TƯ DUY MATHX – PHIẾU SỐ 38

Bài 1. Có bao nhiêu hình tam giác trong hình sau?



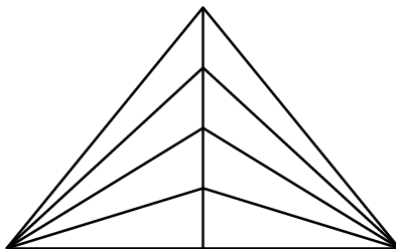
.....
.....

Bài 2. Có bao nhiêu hình vuông trong hình bên?



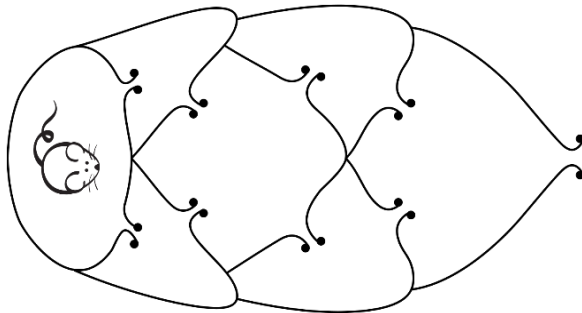
.....
.....

Bài 3. Có bao nhiêu hình tam giác trong hình dưới đây?



.....
.....

Bài 4. Chú chuột muốn thoát ra khỏi mê cung dưới đây. Hỏi chú chuột có tất cả bao nhiêu cách đi sao cho mỗi cửa không được đi qua quá 1 lần?




.....

.....

.....

.....

Bài 5. Có bao nhiêu sợi dây trong hình dưới đây?



.....

.....

.....