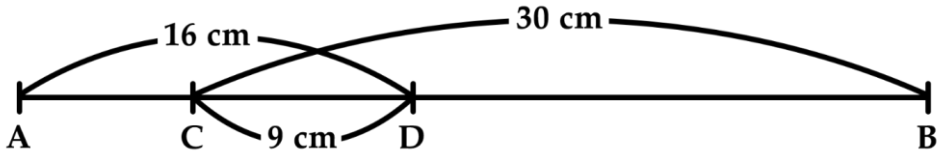


## PHIẾU TƯ DUY MATHX – PHIẾU SỐ 49

Bài 1. Cho các đoạn thẳng như dưới đây.



Tính độ dài đoạn thẳng AB.

---



---



---

Bài 2. Giá trị của B bằng bao nhiêu để được phép toán đúng dưới đây?

$$15 + B = 11 + 8.$$

---



---



---

Bài 3. Tùg leo từ tầng 1 đến tầng 5 hết 8 phút. Hỏi Tùg leo từ tầng 1 đến tầng 10 hết bao nhiêu phút?

---



---



---



---



---



---



---



---



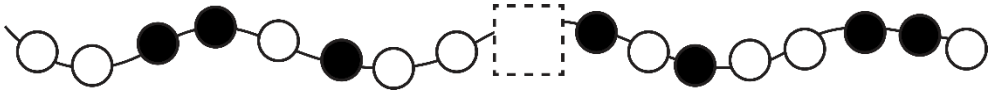
---



---



**Bài 4.** Dựa vào quy luật của hình dưới đây, tìm hình vẽ bị thiếu.




-----

-----

-----

**Bài 5.** Có bao nhiêu hình tam giác trong hình dưới đây?



-----

-----

-----

**GIỚI THIỆU LỚP HỌC ONLINE CÙNG GIÁO VIÊN GIỎI**

Trường Toán Online MATHX với các lớp Toán online trực tiếp với giáo viên giỏi. Lớp học dành cho học sinh từ **CƠ BẢN** đến **NÂNG CAO** phù hợp với trình độ của từng bạn (có kiểm tra xếp lớp). Sĩ số 8 - 12 học sinh/lớp giúp giáo viên và học sinh dễ dàng tương tác, giáo viên dễ dàng sát sao tình hình học tập của học sinh.

Phụ huynh học sinh đăng ký **LÀM BÀI KIỂM TRA XẾP LỚP MIỄN PHÍ** tại form: [truongtoanmathx.vn/dangkykiemtra](http://truongtoanmathx.vn/dangkykiemtra)

Xem thông tin chi tiết: [truongtoanmathx.vn](http://truongtoanmathx.vn)

**HOTLINE:** 0867.162.019