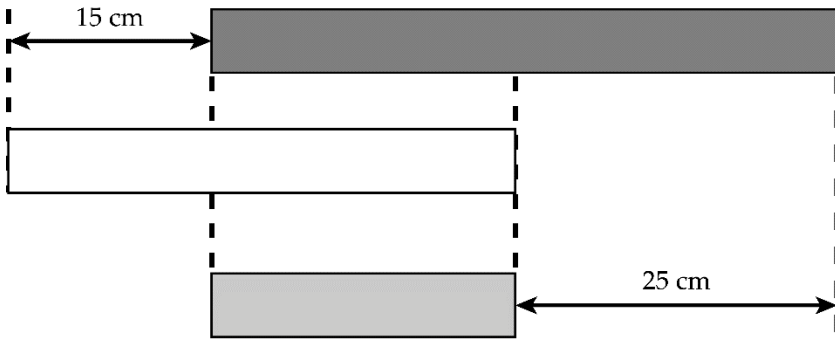




PHIẾU TƯ DUY MATHX – PHIẾU SỐ 47

**Bài 1.** 3 mẫu giấy trong hình dưới đây có tổng chiều dài là 100 cm. Tìm độ dài của mẫu giấy dưới cùng.




---




---



---

**Bài 2.** Cho một mê cung có sơ đồ như hình bên. Hỏi có thể bắt đầu từ điểm nào để đi đến điểm O?



- (A) A      (B) B      (C) C      (D) D      (E) E

---



---



---



Bài 3. Tìm giá trị của:  $16 - 7 - 6$ .

---

---

---

---

---

---

Bài 4. Bác Minh muốn cưa một khúc gỗ thành 6 đoạn nhỏ hơn. Hỏi bác Minh cần cưa bao nhiêu lần?

---

---

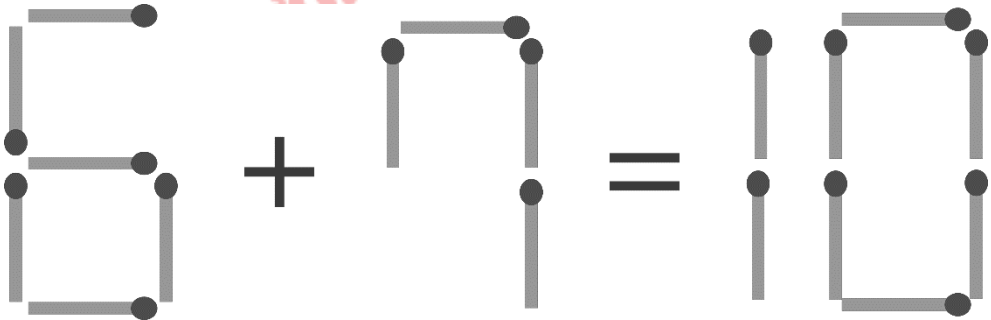
---

---

---

---

Bài 5. Bạn Hùng xếp các que thành một phép cộng hai số có kết quả sai. Em hãy đổi chỗ chỉ 1 que diêm ở một số để được phép cộng có kết quả đúng.




---

---

---

---

---

---



### GIỚI THIỆU LỚP HỌC ONLINE CÙNG GIÁO VIÊN GIỎI

Trường Toán Online MATHX với các lớp Toán online trực tiếp với giáo viên giỏi.

Lớp học dành cho học sinh từ **CƠ BẢN** đến **NÂNG CAO** phù hợp với trình độ của từng bạn (có kiểm tra xếp lớp). Sĩ số 8 - 12 học sinh/lớp giúp giáo viên và học sinh dễ dàng tương tác, giáo viên dễ dàng sát sao tình hình học tập của học sinh.

Phụ huynh học sinh đăng ký **LÀM BÀI KIỂM TRA XẾP LỚP MIỄN PHÍ**

tại form: [truongtoanmathx.vn/dangkykiemtra](http://truongtoanmathx.vn/dangkykiemtra)

Xem thông tin chi tiết: [truongtoanmathx.vn](http://truongtoanmathx.vn)

**HOTLINE:** 0867.162.019



TRƯỜNG TOÁN ONLINE MATHX