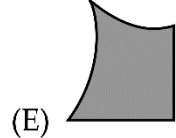
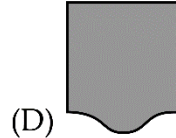
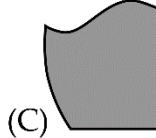
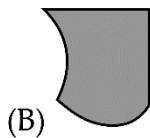
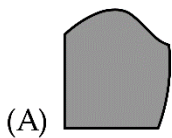
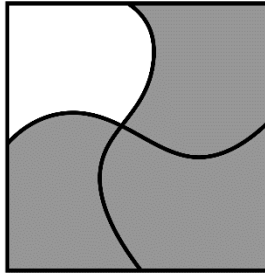




ĐÁP ÁN PHIẾU TƯ DUY MATHX – PHIẾU SỐ 46

Bài 1. Hình nào có thể điền vào chỗ trống trong hình dưới đây?



Hướng dẫn giải:

Đáp án B.

Bài 2. Bạn Minh có nhiều hơn bạn Nam 10 cái kẹo. Hỏi Minh cần cho Nam mấy cái kẹo để hai bạn có số kẹo bằng nhau?

Hướng dẫn giải:

$$10 = 5 + 5.$$

Như vậy Minh cần cho Nam 5 cái kẹo nữa để số kẹo hai bạn bằng nhau.

Đáp số: 5 cái kẹo.

Bài 3. Điền dấu “+” hoặc “-” thích hợp vào chỗ “...”.

$$4 \dots 1 \dots 4 = 10 - 3.$$

Hướng dẫn giải:

$$4 - 1 + 4 = 10 - 3.$$

Bài 4. Bình có 10 cái kẹo, Lan có 6 cái kẹo. Bình cần cho Lan mấy cái kẹo thì hai bạn có số kẹo bằng nhau?

(A) 1

(B) 2

(C) 3

(D) 4


Hướng dẫn giải:

Bình hơn Lan số kẹo là: $10 - 6 = 4$ (cái kẹo)

$4 = 2 + 2$ nên Bình cho Lan 2 cái kẹo thì số kẹo hai bạn bằng nhau.

Đáp án B.

Bài 5. Để cân thứ ba thăng bằng thì số con vịt cần đặt thay cho dấu “?” là bao nhiêu con?



Hướng dẫn giải:

Xét cân thứ nhất: 1 con cá sấu = 2 con sư tử;

Xét cân thứ hai: 1 con sư tử = 2 con vịt;

Vậy: 1 con cá sấu = 2 con vịt + 2 con vịt = 4 con vịt

Đáp số: 4 con vịt.

GIỚI THIỆU LỚP HỌC ONLINE CÙNG GIÁO VIÊN GIỎI

Trường Toán Online MATHX với các lớp Toán online trực tiếp với giáo viên giỏi. Lớp học dành cho học sinh từ CƠ BẢN đến NÂNG CAO phù hợp với trình độ của từng bạn (có kiểm tra xếp lớp). Sĩ số 8 - 12 học sinh/lớp giúp giáo viên và học sinh dễ dàng tương tác, giáo viên dễ dàng sát sao tình hình học tập của học sinh.

Phụ huynh học sinh đăng ký **LÀM BÀI KIỂM TRA XẾP LỚP MIỄN PHÍ** tại form: truongtoanmathx.vn/dangkykiemtra

Xem thông tin chi tiết: truongtoanmathx.vn

HOTLINE: 0867.162.019