





PHIẾU TƯ DUY MATHX – PHIẾU SỐ 45

Bài 1. Các con vật dưới đây có tất cả bao nhiêu cái chân?



- (A) 10 (B) 12 (C) 14 (D) 16 (E) 18



Bài 2. Sinh nhật của Nam là ngày hôm qua. Ngày mai là thứ Bảy.
 Hỏi sinh nhật Nam là thứ mấy?

Bài 3. Số thích hợp biểu thị số que kem vào dấu “()” là bao nhiêu?





Bài 4. Trong 4 hình dưới đây, hình nào là bóng của chú thỏ ngoài cùng bên trái?









A

B

C

D

Bài 5. Quan sát hình bên và trả lời câu hỏi.

G							
F							
E							
D							
C							
B							
A							
	1	2	3	4	5	6	7

Con rắn ở vị trí hàng nào, cột nào?

- (A) Hàng E, cột 4 (B) Hàng B, cột 4 (C) Hàng F, cột 6
 (D) Hàng G, cột 2 (E) Hàng A, cột 5



Bài toán thử thách: Chú mèo thông minh thường đọc sách từ giữa trưa đến giữa đêm và dành toàn bộ thời gian còn lại trong ngày để ngủ. Bây giờ chú mèo đang ngủ, nhưng 1 giờ nữa chú sẽ bắt đầu đọc trang sách tiếp theo. Hỏi sau bao nhiêu giờ nữa thì chú mèo lại đi ngủ?

GIỚI THIỆU LỚP HỌC ONLINE CÙNG GIÁO VIÊN GIỎI

Trường Toán Online MATHX với các lớp Toán online trực tiếp với giáo viên giỏi. Lớp học dành cho học sinh từ **CƠ BẢN** đến **NÂNG CAO** phù hợp với trình độ của từng bạn (có kiểm tra xếp lớp). Sĩ số 8 - 12 học sinh/lớp giúp giáo viên và học sinh dễ dàng tương tác, giáo viên dễ dàng sát sao tình hình học tập của học sinh.

Phụ huynh học sinh đăng ký **LÀM BÀI KIỂM TRA XẾP LỚP MIỄN PHÍ** tại form: truongtoanmathx.vn/dangkykiemtra

Xem thông tin chi tiết: truongtoanmathx.vn

HOTLINE: 0867.162.019



TRƯỜNG TOÁN ONLINE MATHX