




PHIẾU TƯ DUY MATHX – PHIẾU SỐ 44

Bài 1. Chiếc váy nào có nhiều hơn 4 chấm nhưng ít hơn 6 chấm?








Bài 2. Tính: $12 + 4 + 13 + 5 + 18 - 6 - 8 + 2$.

Bài 3. Có một bông hoa như hình bên dưới. Bạn Lili cắt đi 1 ô vuông của hình.



Ô vuông nào sẽ lắp vào hình để được đúng hình bông hoa?

- 
 (A)
- 
 (B)
- 
 (C)
- 
 (D)
- 
 (E)



Bài 4. Khi xếp hàng để mua pizza, Long thấy tính từ đầu hàng Long xếp thứ ba, tính từ cuối hàng Long xếp thứ tư. Hỏi tất cả có bao nhiêu người đang xếp hàng để mua pizza?

Bài 5. Anna viết liên tiếp các số từ 1 đến 25 vào bảng bên dưới. Bạn ấy xóa đi hai số và thay bằng dấu “?”. Hỏi tổng hai số được thay bằng dấu “?” là bao nhiêu?

1	?	11	20	21
2	9	12	19	22
3	8	13	18	23
4	7	?	17	24
5	6	15	16	25





GIỚI THIỆU LỚP HỌC ONLINE CÙNG GIÁO VIÊN GIỎI

Trường Toán Online MATHX với các lớp Toán online trực tiếp với giáo viên giỏi.

Lớp học dành cho học sinh từ **CƠ BẢN** đến **NÂNG CAO** phù hợp với trình độ của từng bạn (có kiểm tra xếp lớp). Sĩ số 8 - 12 học sinh/lớp giúp giáo viên và học sinh dễ dàng tương tác, giáo viên dễ dàng sát sao tình hình học tập của học sinh.

Phụ huynh học sinh đăng ký **LÀM BÀI KIỂM TRA XẾP LỚP MIỄN PHÍ**

tại form: truongtoanmathx.vn/dangkykiemtra

Xem thông tin chi tiết: truongtoanmathx.vn

HOTLINE: 0867.162.019



TRƯỜNG TOÁN ONLINE MATHX