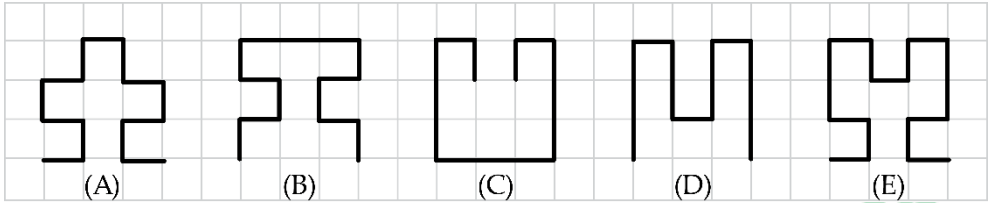




ĐÁP ÁN PHIẾU TƯ DUY MATHX – PHIẾU SỐ 43


Bài 1. Đường bơi đậm nào dài nhất trong các đoạn đường dưới đây?



Hướng dẫn giải:

Đáp án E.

Bài 2. Miếng pizza này được cắt làm các phần bằng nhau.



Hỏi có bao nhiêu miếng bị thiếu?

- (A) 1 (B) 2 (C) 3 (D) 4 (E) 5

Hướng dẫn giải:

Đáp án D.

Bài 3. Tính nhanh: $12 + 14 + 15 + 16 - 2 - 4 - 6$.

Hướng dẫn giải

$$\begin{aligned} &12 + 14 + 15 + 16 - 2 - 4 - 6 \\ &= (12 - 2) + (14 - 4) + (16 - 6) + 15 \\ &= 10 + 10 + 10 + 15 \\ &= 45. \end{aligned}$$




Bài 4. Ngày hôm sau của ngày mai là thứ Tư. Hỏi ngày hôm nay là thứ mấy?

Hướng dẫn giải:

Ngày hôm sau của ngày mai là thứ Tư thì ngày mai là thứ Ba.

Do đó, ngày hôm nay là thứ Hai.

Đáp số: thứ Hai.

Bài 5. Tìm giá trị của hình  .

$$\begin{array}{r}
 \text{Happy Circle} + \text{Sad Triangle} = 10 \\
 \text{Happy Circle} + \text{Sad Triangle} + \text{Sad Triangle} = 12
 \end{array}$$

Hướng dẫn giải:

Hình dưới hơn hình trên 1 hình tam giác nên giá trị của hình tam giác là:

Tam giác = $12 - 10 = 2$.

Đáp số: 2.

GIỚI THIỆU LỚP HỌC ONLINE CÙNG GIÁO VIÊN GIỎI

Trường Toán Online MATHX với các lớp Toán online trực tiếp với giáo viên giỏi.

Lớp học dành cho học sinh từ CƠ BẢN đến NÂNG CAO phù hợp với trình độ của từng bạn (có kiểm tra xếp lớp). Sĩ số 8 - 12 học sinh/lớp giúp giáo viên và học sinh

dễ dàng tương tác, giáo viên dễ dàng sát sao tình hình học tập của học sinh.

Phụ huynh học sinh đăng ký **LÀM BÀI KIỂM TRA XẾP LỚP MIỄN PHÍ** tại form: truongtoanmathx.vn/dangkykiemtra

Xem thông tin chi tiết: truongtoanmathx.vn

HOTLINE: 0867.162.019