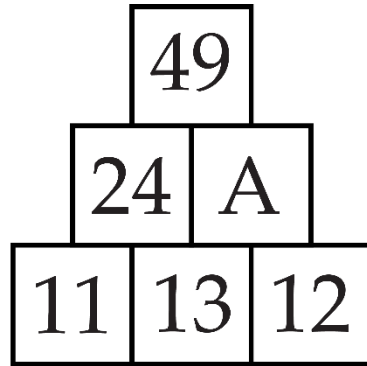
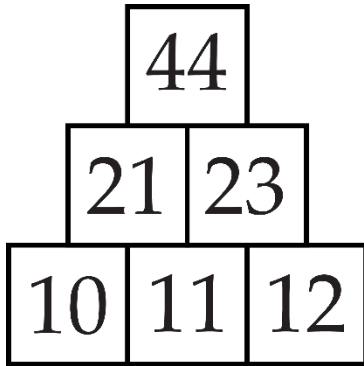




ĐÁP ÁN PHIẾU TƯ DUY MATHX – PHIẾU SỐ 41

Bài 1. Tìm A để được quy luật đúng.



Hướng dẫn giải:

Quy luật của tháp số là: số ở ô bên trên bằng tổng hai ô phía dưới liền kề. Ví dụ $21 = 10 + 11$; $23 = 11 + 12$.

$A = 13 + 12 = 25$. Thử lại $49 = 24 + 25$ (đúng)

Đáp số: $A = 25$.

Bài 2. Trong cuộc chạy đua, tại ngay trước vạch đích Nam vượt qua người thứ ba. Hỏi Nam đứng thứ mấy?

Hướng dẫn giải:

Nam đứng thứ ba.

Bài 3. Tính: $1 + 3 + 5 + 7 + 9 - 2 - 4 - 6 - 8$.

Hướng dẫn giải:

Đáp số: 5.

Bài 4. Để cưa một khúc gỗ thành 8 đoạn cần mấy lần cưa?

Hướng dẫn giải:

Cưa 1 lần được 2 đoạn;

Cưa 2 lần được 3 đoạn;

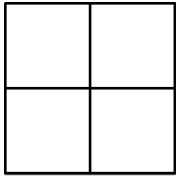
...

Cưa 7 lần được 8 đoạn.

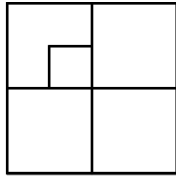
Đáp số: 7 lần.



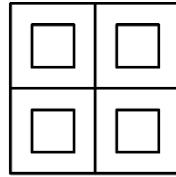
Bài 5. Hình nào trong các hình dưới đây có 10 hình vuông?



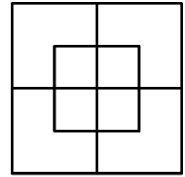
(A)



(B)



(C)



(D)

Hướng dẫn giải:

Đáp án D.

GIỚI THIỆU LỚP HỌC ONLINE CÙNG GIÁO VIÊN GIỎI

Trường Toán Online MATHX với các lớp Toán online trực tiếp với giáo viên giỏi. Lớp học dành cho học sinh từ CƠ BẢN đến NÂNG CAO phù hợp với trình độ của từng bạn (có kiểm tra xếp lớp). Sĩ số 8 - 12 học sinh/lớp giúp giáo viên và học sinh dễ dàng tương tác, giáo viên dễ dàng sát sao tình hình học tập của học sinh.

Phụ huynh học sinh đăng ký **LÀM BÀI KIỂM TRA XẾP LỚP MIỄN PHÍ** tại form: truongtoanmathx.vn/dangkykiemtra

Xem thông tin chi tiết: truongtoanmathx.vn

HOTLINE: 0867.162.019

