

## ĐÁP ÁN PHIẾU TƯ DUY MATHX – PHIẾU SỐ 38

**Bài 1.** Mina chỉ có 3 người chị gái. Hỏi mẹ của Mina có bao nhiêu người con?

*Hướng dẫn giải:*

Mẹ Mina có số người con là:  $3 + 1 = 4$  (người con)

Đáp số: 4 người con.

**Bài 2.** Quan sát quy luật và điền số thích hợp vào chỗ chấm bên dưới.

0; 5; 10; 15; ....

*Hướng dẫn giải:*

Dãy số trên là dãy số cách đều 5 đơn vị nên số thích hợp điền vào chỗ chấm là 20.

Đáp số: 20.

**Bài 3.** Tính giá trị của biểu thức:  $1 + 9 + 6 + 2 + 4$ .

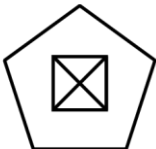
*Hướng dẫn giải:*

$1 + 9 + 6 + 2 + 4 = (1 + 9) + (4 + 6) + 2 = 10 + 10 + 2 = 22$ .

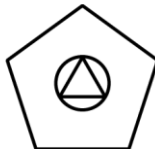
Đáp số: 22.

**Bài 4.** Hương đã vẽ năm bức tranh. Hỏi bức tranh nào không có hình tam giác?

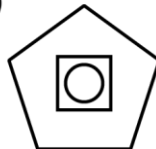
A)



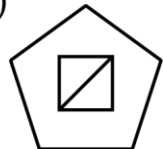
B)



C)



D)

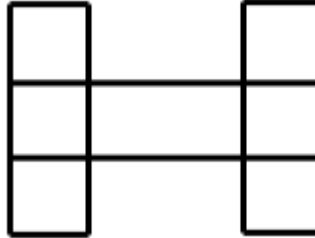


*Hướng dẫn giải:*

Đáp án C.



Bài 5. Có bao nhiêu hình vuông trong hình dưới đây?



Hướng dẫn giải:  
Có 6 hình vuông.

### GIỚI THIỆU LỚP HỌC ONLINE CÙNG GIÁO VIÊN GIỎI

Trường Toán Online MATHX với các lớp Toán online trực tiếp với giáo viên giỏi. Lớp học dành cho học sinh từ **CƠ BẢN** đến **NÂNG CAO** phù hợp với trình độ của từng bạn (có kiểm tra xếp lớp). Sĩ số 8 - 12 học sinh/lớp giúp giáo viên và học sinh dễ dàng tương tác, giáo viên dễ dàng sát sao tình hình học tập của học sinh.

Phụ huynh học sinh đăng ký **LÀM BÀI KIỂM TRA XẾP LỚP MIỄN PHÍ** tại form: [truongtoanmathx.vn/dangkykiemtra](http://truongtoanmathx.vn/dangkykiemtra)

Xem thông tin chi tiết: [truongtoanmathx.vn](http://truongtoanmathx.vn)

**HOTLINE:** 0867.162.019

