



PHIẾU TƯ DUY MATHX – PHIẾU SỐ 38

Bài 1. Mina có tất cả 3 người chị gái. Hỏi mẹ của Mina có bao nhiêu người con?

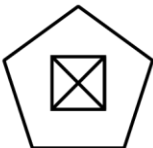
Bài 2. Quan sát quy luật và điền số thích hợp vào chỗ chấm bên dưới.

0; 5; 10; 15;

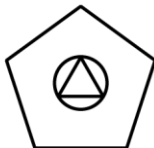
Bài 3. Tính giá trị của biểu thức: $1 + 9 + 6 + 2 + 4$.

Bài 4. Hương đã vẽ năm bức tranh. Hỏi bức tranh nào không có hình tam giác?

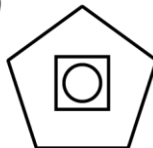
A)



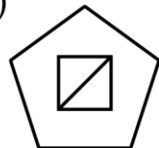
B)



C)

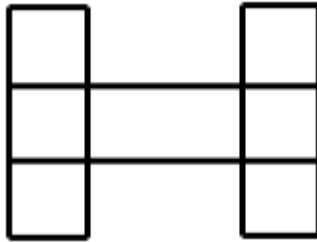


D)





Bài 5. Có bao nhiêu hình vuông trong hình dưới đây?



GIỚI THIỆU LỚP HỌC ONLINE CÙNG GIÁO VIÊN GIỎI

Trường Toán Online MATHX với các lớp Toán online trực tiếp với giáo viên giỏi. Lớp học dành cho học sinh từ CƠ BẢN đến NÂNG CAO phù hợp với trình độ của từng bạn (có kiểm tra xếp lớp). Sĩ số 8 - 12 học sinh/lớp giúp giáo viên và học sinh dễ dàng tương tác, giáo viên dễ dàng sát sao tình hình học tập của học sinh.

Phụ huynh học sinh đăng ký **LÀM BÀI KIỂM TRA XẾP LỚP MIỄN PHÍ** tại form: truongtoanmathx.vn/dangkykiemtra

Xem thông tin chi tiết: truongtoanmathx.vn

HOTLINE: 0867.162.019