

PHIẾU TƯ DUY MATHX – PHIẾU SỐ 38

Bài 1. Mina chỉ có 3 người chị gái. Hỏi mẹ của Mina có bao nhiêu người con?

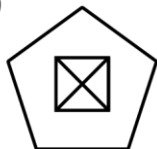
Bài 2. Quan sát quy luật và điền số thích hợp vào chỗ chấm bên dưới.

0; 5; 10; 15;

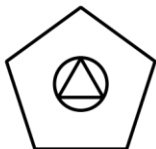
Bài 3. Tính giá trị của biểu thức: $1 + 9 + 6 + 2 + 4$.

Bài 4. Hương đã vẽ năm bức tranh. Hỏi bức tranh nào không có hình tam giác?

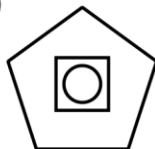
A)



B)



C)



D)





Bài 5. Có bao nhiêu hình vuông trong hình dưới đây?

