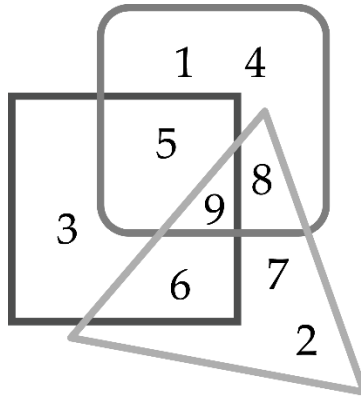




ĐÁP ÁN PHIẾU TƯ DUY MATHX – PHIẾU SỐ 36

Bài 1. Số nào nằm trong hình tròn, hình tam giác và hình vuông?



Hướng dẫn giải:

Đáp số: số 9.

Bài 2. Điền số thích hợp vào ô trống.

$$16 + 42 < \square < 20 + 40$$

Hướng dẫn giải:

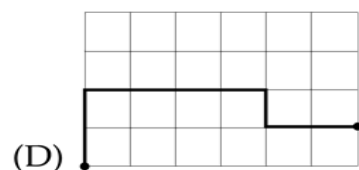
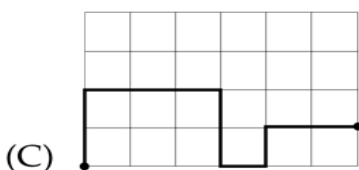
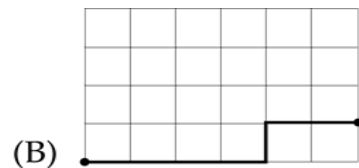
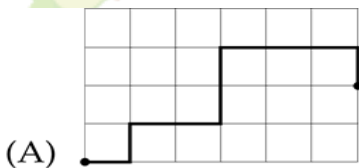
$$16 + 42 = 58; 20 + 40 = 60;$$

$$58 < \dots < 60.$$

Vậy số thích hợp điền vào ô trống là 59.

Đáp số: 59.

Bài 3. Đường nào dài nhất trong các hình dưới đây?





Hướng dẫn giải:

Đáp án C.

Bài 4. Cho các số 0, 10, 20, 30, 40, 50, 60, 70, 80, 90. Hãy tìm các cặp hai số sao cho khi cộng hai số đó thì có kết quả bằng 70.

Hướng dẫn giải:

$$70 = 0 + 70 = 10 + 60 = 20 + 50 = 30 + 40$$

Vậy các cặp số tìm được là: (0; 70); (10; 60); (20; 50); (30; 40).

Bài 5. Một thùng cam và chú mèo nặng 20 kg. Sau khi bỏ một nửa số cam, trọng lượng giảm đi 5 kg. Hỏi chú mèo nặng bao nhiêu ki-lô-gam nếu thùng rỗng nặng 1 kg.

Hướng dẫn giải:

Một nửa số cam nặng 5 kg.

Tổng số cam nặng số ki-lô-gam là: $5 + 5 = 10$ (kg)

Chú mèo nặng số ki-lô-gam là:

$$20 - 10 - 1 = 9 \text{ (kg)}$$

Đáp số: 9 kg.

GIỚI THIỆU LỚP HỌC ONLINE CÙNG GIÁO VIÊN GIỎI

Trường Toán Online MATHX với các lớp Toán online trực tiếp với giáo viên giỏi.

Lớp học dành cho học sinh từ CƠ BẢN đến NÂNG CAO phù hợp với trình độ của từng bạn (có kiểm tra xếp lớp). Sĩ số 8 - 12 học sinh/lớp giúp giáo viên và học sinh dễ dàng tương tác, giáo viên dễ dàng sát sao tình hình học tập của học sinh.

Phụ huynh học sinh đăng ký **LÀM BÀI KIỂM TRA XẾP LỚP MIỄN PHÍ**

tại form: truongtoanmathx.vn/dangkykiemtra

Xem thông tin chi tiết: truongtoanmathx.vn

HOTLINE: 0867.162.019