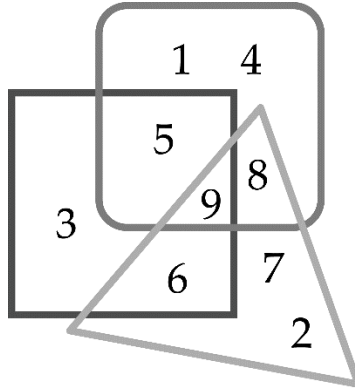


PHIẾU TƯ DUY MATHX – PHIẾU SỐ 36

Bài 1. Số nào nằm trong hình tròn, hình tam giác và hình vuông?



-----

-----

-----

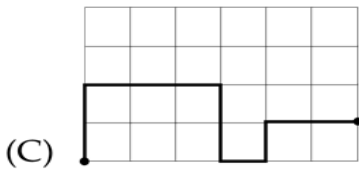
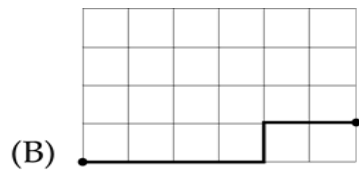
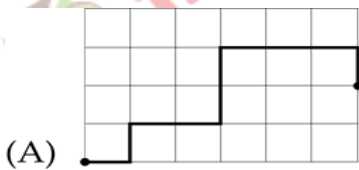
Bài 2. Điền số thích hợp vào ô trống.

$$16 + 42 < \square < 20 + 40$$

-----

-----

Bài 3. Đường nào dài nhất trong các hình dưới đây?



-----

-----



**Bài 4.** Cho các số 0, 10, 20, 30, 40, 50, 60, 70, 80, 90. Hãy tìm các cặp hai số sao cho khi cộng hai số đó thì có kết quả bằng 70.

-----

-----

-----

-----

-----

-----

-----

-----

-----

-----

**Bài 5.** Một thùng cam và chú mèo nặng 20 kg. Sau khi bỏ một nửa số cam, trọng lượng giảm đi 5 kg. Hỏi chú mèo nặng bao nhiêu ki-lô-gam nếu thùng rỗng nặng 1 kg.

-----

-----

-----

-----

-----

-----

-----

-----

-----

-----

### GIỚI THIỆU LỚP HỌC ONLINE CÙNG GIÁO VIÊN GIỎI

Trường Toán Online MATHX với các lớp Toán online trực tiếp với giáo viên giỏi. Lớp học dành cho học sinh từ CƠ BẢN đến NÂNG CAO phù hợp với trình độ của từng bạn (có kiểm tra xếp lớp). Sĩ số 8 - 12 học sinh/lớp giúp giáo viên và học sinh dễ dàng tương tác, giáo viên dễ dàng sát sao tình hình học tập của học sinh.

Phụ huynh học sinh đăng ký **LÀM BÀI KIỂM TRA XẾP LỚP MIỄN PHÍ** tại form: [truongtoanmathx.vn/dangkykiemtra](http://truongtoanmathx.vn/dangkykiemtra)

Xem thông tin chi tiết: [truongtoanmathx.vn](http://truongtoanmathx.vn)

**HOTLINE:** 0867.162.019