

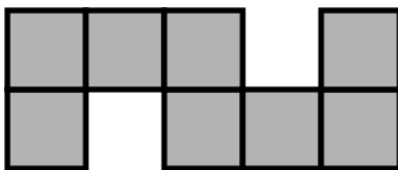


TOÁN TƯ DUY HÀNG TUẦN LỚP 4 – PHIẾU SỐ 37
THÁNG 03 – TUẦN 03 – ĐỀ BÀI

Chú ý: Học sinh làm bài, trình bày và so sánh với lời giải thầy gửi. Bài nào sai, các em nên làm lại để hiểu kỹ hơn nữa bài toán đó.

Kiên trì – bền bỉ nhất định sẽ hiệu quả!

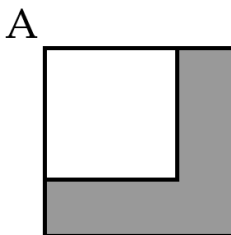
Bài 1. Hình vẽ gồm 8 hình vuông bằng nhau. Diện tích của hình vẽ là 8 cm^2 . Hỏi chu vi của hình vẽ là bao nhiêu xăng-ti-mét?





TRƯỜNG TOÁN ONLINE MATHX


Bài 2. Trong hình vẽ, hai hình vuông chung góc A. Hình vuông lớn có diện tích 49 cm^2 . Tính chu vi của phần tô màu.



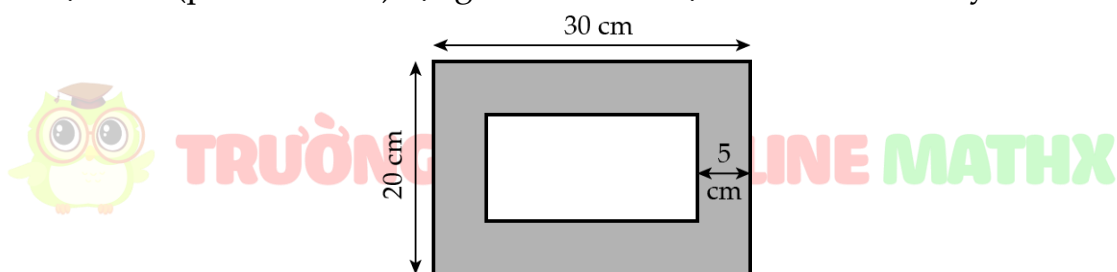


TRƯỜNG TOÁN ONLINE MATHX

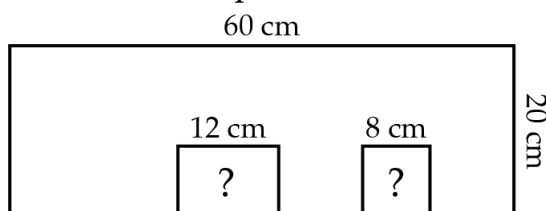
Bài 3. Mỗi ô nhỏ trong hình là một hình vuông. Diện tích của toàn bộ hình là 320 cm^2 . Chu vi của toàn bộ hình là bao nhiêu cm?



Bài 4. Một khung ảnh có kích thước $20 \text{ cm} \times 30 \text{ cm}$. Bao quanh bức tranh là một viền (phần tô màu) rộng 5 cm . Tính diện tích của viền này.



Bài 5. Có một tấm bìa hình chữ nhật. Người ta cắt ra hai hình chữ nhật nhỏ có cùng chiều cao từ tấm bìa lớn như hình vẽ. Diện tích phần còn lại là 980 cm^2 . Tìm chiều cao của mỗi phần bị cắt ra.



Chúc các bạn học sinh học vui và yêu toán nhé!



TRƯỜNG TOÁN ONLINE MATHX



TRƯỜNG TOÁN ONLINE MATHX