



PHIẾU TƯ DUY MATHX – PHIẾU SỐ 37

Bài 1. Trong phép cộng bên dưới, các chữ cái khác nhau đại diện cho các chữ số khác nhau. Tìm số có hai chữ số HA.

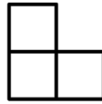
$$\begin{array}{r} \text{A} \\ + \text{A} \\ \text{H} \\ \hline \text{H A} \end{array}$$

Bài 2. Có 9 đồng xu bằng vàng. Một trong số đó nhẹ hơn các đồng còn lại và đó là tiền giả. Làm thế nào em có thể tìm ra đồng tiền giả đó bằng một chiếc cân thăng bằng?

Bài 3. Hàng ghế đầu tiên của rạp hát đã chật kín chỗ. Nam ngồi ghế thứ sáu tính từ trái sang. Minh ngồi ghế thứ sáu tính từ phải sang. Có 4 bạn khác ngồi giữa Nam và Minh. Hỏi có bao nhiêu ghế trong hàng đầu tiên của rạp hát?



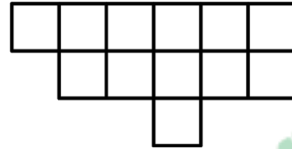
Bài 4. Hình nào dưới đây có thể được tạo thành khi sử dụng hình chữ L bên dưới?



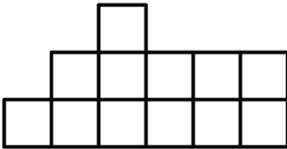
a)



b)



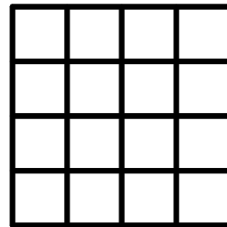
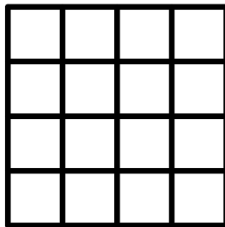
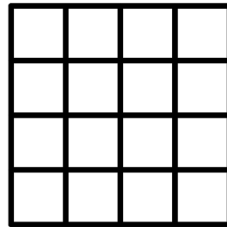

c)



d)



Bài 5. Em hãy chia các hình vuông lớn sau đây thành 4 phần bằng nhau theo ít nhất 4 cách.





GIỚI THIỆU LỚP HỌC ONLINE CÙNG GIÁO VIÊN GIỎI

Trường Toán Online MATHX với các lớp Toán online trực tiếp với giáo viên giỏi. Lớp học dành cho học sinh từ **CƠ BẢN** đến **NÂNG CAO** phù hợp với trình độ của từng bạn (có kiểm tra xếp lớp). Sĩ số 8 - 12 học sinh/lớp giúp giáo viên và học sinh dễ dàng tương tác, giáo viên dễ dàng sát sao tình hình học tập của học sinh.

Phụ huynh học sinh đăng ký **LÀM BÀI KIỂM TRA XẾP LỚP MIỄN PHÍ** tại form: truongtoanmathx.vn/dangkykiemtra

Xem thông tin chi tiết: truongtoanmathx.vn

HOTLINE: 0867.162.019



TRƯỜNG TOÁN ONLINE MATHX