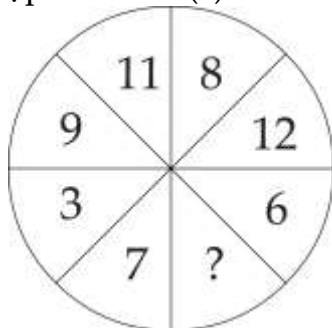


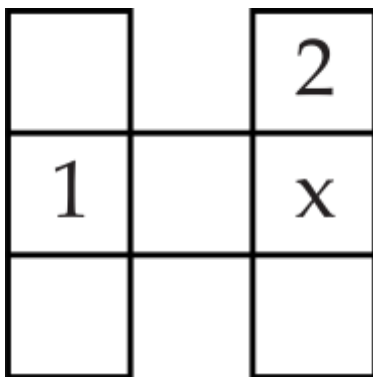


PHIẾU TƯ DUY MATHX – PHIẾU SỐ 36

Bài 1. Điền số thích hợp vào dấu (?).



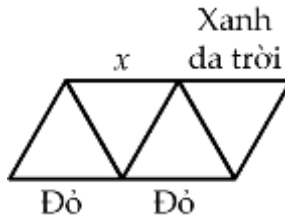
Bài 2. Các số tự nhiên từ 1 đến 7 được điền vào các ô vuông ở hình dưới, mỗi số điền vào 1 ô, sao cho tổng 3 số ở hàng ngang bằng tổng 3 số ở mỗi cột thẳng đứng. Số 1 và số 2 đã được điền sẵn. Hỏi có bao nhiêu cách khác nhau để điền số vào vị trí ô vuông x?



Bài 3. Mỗi một đoạn thẳng trong 9 đoạn thẳng dưới đây đều được tô bởi 1 trong 3 màu: Xanh da trời, xanh lá cây và màu đỏ. Ba cạnh của một tam giác được tô ba màu khác nhau. Có ba cạnh



đã được tô màu sẵn như hình vẽ dưới đây. Hỏi cạnh có đánh dấu x được tô màu gì?



Bài 4. Trong hình dưới đây, tổng của 3 số ở mỗi hàng, mỗi cột đều bằng nhau. Tìm giá trị của x.

13	8	
14	x	10
9		

Bài 5. Số nào thay cho dấu “?”?

