



MathX

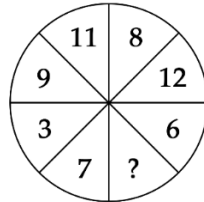
TOÁN TƯ DUY HÀNG TUẦN LỚP 4 – PHIẾU SỐ 36

THÁNG 03 – TUẦN 02 – ĐỀ BÀI

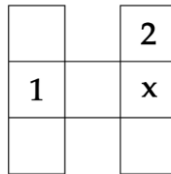
Chú ý: Học sinh làm bài, trình bày và so sánh với lời giải thầy gửi. Bài nào sai, các em nên làm lại để hiểu kỹ hơn nữa bài toán đó.

Kiên trì – bền bỉ nhất định sẽ hiệu quả!

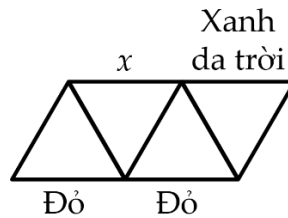
Bài 1. Điền số thích hợp vào dấu (?)



Bài 2. Các số tự nhiên từ 1 đến 7 được điền vào các ô vuông ở hình dưới, mỗi số điền vào 1 ô, sao cho tổng 3 số ở hàng ngang bằng tổng 3 số ở mỗi cột thẳng đứng. Số 1 và số 2 đã được điền sẵn. Hỏi có bao nhiêu cách khác nhau để điền số vào vị trí ô vuông x ?



Bài 3. Mỗi một đoạn thẳng trong 9 đoạn thẳng dưới đây đều được tô bởi 1 trong 3 màu: Xanh da trời, Xanh lá cây và màu Đỏ. Ba cạnh của một tam giác được tô ba màu khác nhau. Có ba cạnh đã được tô màu sẵn như hình vẽ dưới đây. Hỏi cạnh có đánh dấu x được tô màu gì?

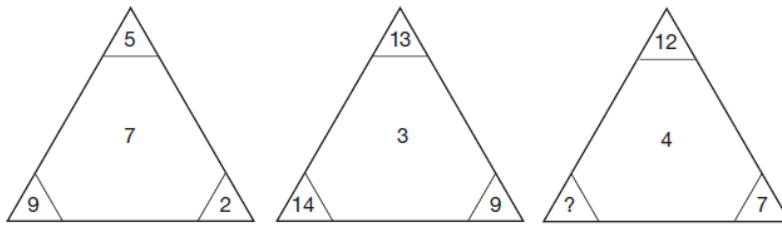


Hướng dẫn giải:

Bài 4. Trong hình dưới đây, tổng của 3 số ở mỗi hàng, mỗi cột đều bằng nhau. Tìm giá trị của x?

13	8	
14	x	10
9		

Bài 5. Số nào thay cho dấu “?”



Chúc các bạn học sinh học vui và yêu toán nhé!



TRƯỜNG TOÁN ONLINE MATHX



TRƯỜNG TOÁN ONLINE MATHX