



TOÁN TƯ DUY HÀNG TUẦN LỚP 2 – PHIẾU SỐ 35
THÁNG 03 – TUẦN 01 – ĐÁP ÁN

Chú ý: Học sinh làm bài, trình bày và so sánh với lời giải thầy gửi. Bài nào sai, các em nên làm lại để hiểu kỹ hơn nữa bài toán đó.

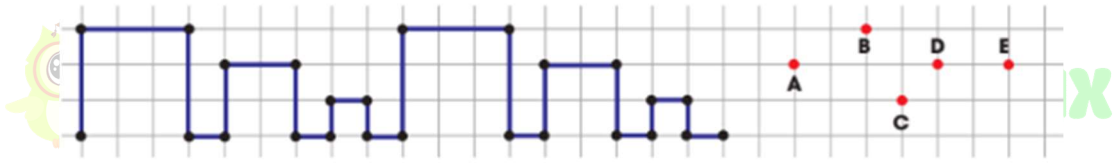
Kiên trì – bền bỉ nhất định sẽ hiệu quả!

Bài 1. Tính nhanh: $28 + 33 + 72 + 67$.

Hướng dẫn giải:

$$\begin{aligned} &28 + 33 + 72 + 67 \\ &= (28 + 72) + (33 + 67) \\ &= 100 + 100 \\ &= 200. \end{aligned}$$

Bài 2. Peter vẽ một mẫu hình 2 lần, như hình dưới. Hỏi khi vẽ mẫu này lần thứ 3, bạn ấy sẽ đi qua điểm nào?



A. A

B. B

C. C

D. D

E. E

Hướng dẫn giải:

Đáp án: D.



Bài 3. Thầy Hiếu có 100 thẻ cú mèo. Ngày thứ nhất thầy tặng cho 10 bạn học sinh, mỗi bạn 2 thẻ cú mèo. Ngày thứ hai thầy tặng cho 8 bạn học sinh, mỗi bạn 5 cú mèo. Hỏi thầy còn lại bao nhiêu thẻ cú mèo?

Hướng dẫn giải:

Ngày thứ nhất, thầy tặng số thẻ cú mèo là:

$$2 \times 10 = 20 \text{ (thẻ)}$$

Ngày thứ hai, thầy tặng số thẻ cú mèo là:



$$5 \times 8 = 40 \text{ (thẻ)}$$

Thầy còn lại số thẻ cú mèo là:

$$100 - 20 - 40 = 40 \text{ (thẻ)}$$

Đáp số: 40 thẻ cú mèo.

Bài 4. Bạn Hoàng đang xếp hàng để mua đồ ăn ở cửa hàng gà rán KFC. Hoàng nhận thấy mình là người đứng thứ 7 từ đầu hàng đếm xuống và đứng thứ 13 từ cuối hàng đếm lên. Hỏi có bao nhiêu người đang xếp hàng?

Hướng dẫn giải:

Số người đứng trước Hoàng là:

$$7 - 1 = 6 \text{ (người)}$$

Số người đứng sau Hoàng là:

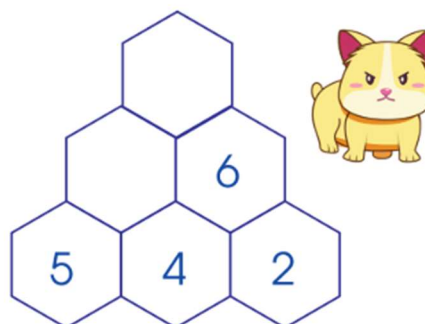
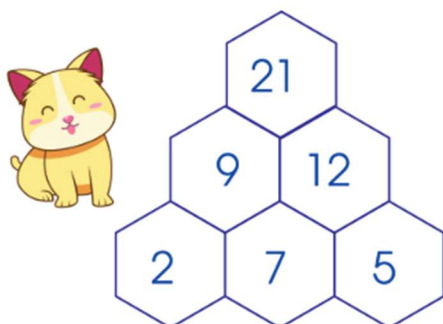
$$13 - 1 = 12 \text{ (người)}$$

Số người đang xếp hàng là:

$$6 + 12 + 1 = 19 \text{ (người)}$$

Đáp số: 19 người.

Bài 5. Hãy quan sát tìm ra quy luật và giúp chú mèo điền số vào những ô còn trống nhé.



Hướng dẫn giải:

