



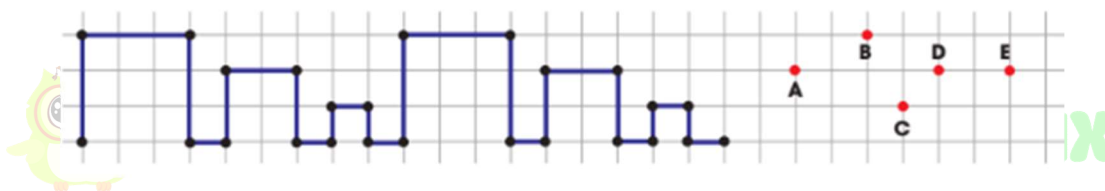
TOÁN TƯ DUY HÀNG TUẦN LỚP 2 – PHIẾU SỐ 35
THÁNG 03 – TUẦN 01 – ĐỀ BÀI

Chú ý: Học sinh làm bài, trình bày và so sánh với lời giải thầy gửi. Bài nào sai, các em nên làm lại để hiểu kỹ hơn nữa bài toán đó.

Kiên trì – bền bỉ nhất định sẽ hiệu quả!

Bài 1. Tính nhanh: $28 + 33 + 72 + 67$.

Bài 2. Peter vẽ một mẫu hình 2 lần, như hình dưới. Hỏi khi vẽ mẫu này lần thứ 3, bạn ấy sẽ đi qua điểm nào?

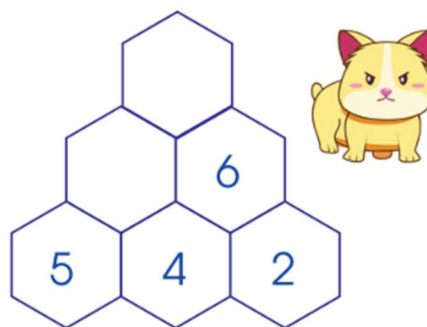
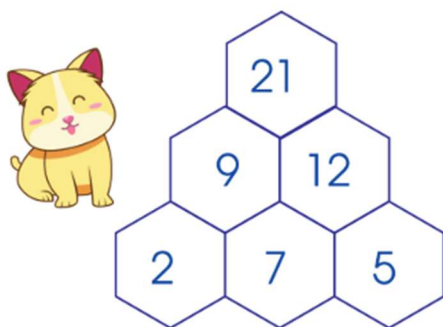


A. A B. B C. C D. D E. E

Bài 3. Thầy Hiếu có 100 thẻ cú mèo. Ngày thứ nhất thầy tặng cho 10 bạn học sinh, mỗi bạn 2 thẻ cú mèo. Ngày thứ hai thầy tặng cho 8 bạn học sinh, mỗi bạn 5 thẻ cú mèo. Hỏi thầy còn lại bao nhiêu thẻ cú mèo?

Bài 4. Bạn Hoàng đang xếp hàng để mua đồ ăn ở cửa hàng gà rán KFC. Hoàng nhận thấy mình là người đứng thứ 7 từ đầu hàng đếm xuống và đứng thứ 13 từ cuối hàng đếm lên. Hỏi có bao nhiêu người đang xếp hàng?

Bài 5. Hãy quan sát tìm ra quy luật và giúp chú mèo điền số vào những ô còn trống nhé!



TRƯỜNG TOÁN ONLINE MATHX



TRƯỜNG TOÁN ONLINE MATHX